

**Демонстрация итоговой контрольной работы
по окружающему миру 1 класс**

1. Найди картинку, на которой изображен лист рябины. Отметь знаком «х».



2. Выбери приметы, не относящиеся к весне.

- а) Воздух становится с каждым днем теплее.
- б) Тает снежный покров.
- в) Расцветают первоцветы.
- г) Водоёмы покрываются льдом.

3. Чем птицы отличаются от других животных? Обведи нужную букву.

- а) они маленькие
- б) тело покрыто перьями
- в) они хорошо умеют летать

4. Сколько ног у паукообразных? Обведи нужную букву.

- а) 4 ноги
- б) 6 ног
- в) 8 ног

5. Выбери верный ответ. Зачем нужно знать свой организм?

- а) чтобы умело использовать свои возможности
- б) чтобы человек мог мыслить, говорить, трудиться
- в) чтобы сохранять и укреплять своё здоровье

6. Подчеркни неживое природное богатство.

- а) дерево;
- б) корова;
- в) почва;
- г) дождь;
- д) солнечный свет.

7. Какую форму имеет планета Земля? _____

8. Напиши по 2 - 3 названия:

цветы: _____

деревья: _____

кустарники: _____

9. Соедини стрелками названия органов чувств и названия чувств.

| | |
|-------|----------|
| глаза | слух |
| язык | зрение |
| уши | вкус |
| нос | осязание |
| кожа | обоняние |

10. Сообрази, кто научил ребят этим полезным делам.

Заправлять постель - _____

Писать - _____

Читать - _____

Наводить порядок - _____

11. Вставь в текст пропущенные слова.

**Демоверсия итоговой контрольной работы
по окружающему миру 2 класс**

1. Запиши названия объектов, которые относятся к природе: кирпич, воздух, луна, песок, ручка, осина.

Ответ:

2. Запиши название растения, которое является кустарником: акация, одуванчик, груша, баклажан.

Ответ:

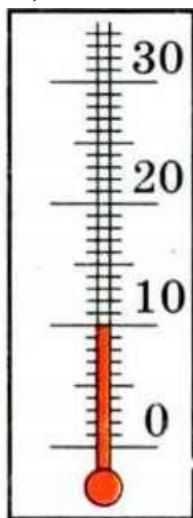
3. Запиши названия растений, которые выращивают в огороде: сирень, картофель, огурцы, калина, капуста, груша, ежевика, тыква, тополь, кабачок, слива, ель.

Ответ:

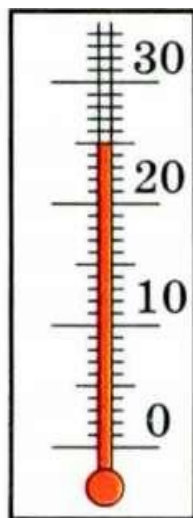
4. Запиши, как называются любые изменения, происходящие в природе: явления погоды, явления природы, сезонные изменения, суточные изменения.

Ответ:

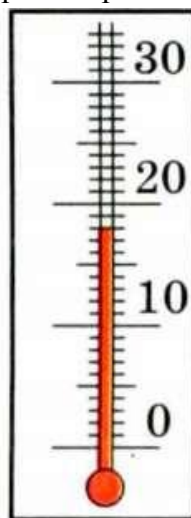
5. Запиши, что показывает термометр:



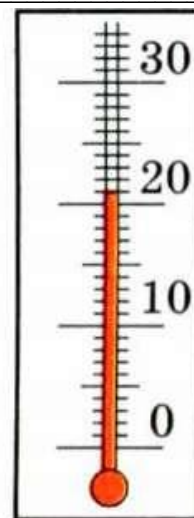
а)



б)



в)



г)

6. Запиши ошибочное высказывание:

- Нельзя купаться в очень холодной воде.
- Купаться следует только в разрешенных местах.
- Купаться детям можно только под присмотром взрослых.

- Лучше купаться одному, тогда никто не мешает.

Ответ:

7. Запиши, какой внутренний орган помогает обогащать кровь кислородом: желудок, печень, сердце, лёгкие.

Ответ:

8. Запиши человек какой профессии не занят в промышленности: сталевар, прокатчик, сварщик, овощевод.

Ответ:

9. Что случается с пчелой после того, как она ужалил человека?

Ответ:

10. Запиши, что изображено на физической карте.

Ответ:

11. О каком растении идет речь? Узнай его по описанию, запиши ответ:

Это и сорняк, и лекарство одновременно. Его древнее название от слова «коприна» – шёлк. Из его стеблей получали волокно для выработки тканей (Андерсен «Дикие лебеди»). Это растение умеет останавливать кровь и насытить наш организм витаминами.

Ответ:

**Демонстрация итоговой контрольной работы
по окружающему миру 3 класс**

1. Укажи искусственное тело.

- | | |
|-----------|-----------|
| 1) кирпич | 3) трава |
| 2) туча | 4) Солнце |

2. Укажи связь между природным материалом, изделием и профессией человека.

- | | | | |
|----|--------------|----------|-----------|
| | А) строитель | Б) глина | В) кирпич |
| 1) | А — | Б — | В |
| 2) | В — | А — | Б |
| 3) | Б — | В — | А |
| 4) | А — | В — | Б |

3. Что такое заповедник?

- 1) Участок земли, где вся природа находится под строгой охраной.
- 2) Участок земли, предназначенный для отдыха людей.
- 3) Участок земли, где выращивают редкие растения со всего мира.
- 4) Участок земли, где разводят разных редких животных.

А 4. Что входит в состав воздуха?

- 1) соли
- 2) кислород
- 3) водород
- 4) углекислый газ

5. Какие растения живут в сырых местах, достаточно жизнеспособные, но не имеют цветков?

- 1) цветковые растения
- 2) папоротники
- 3) лиственные растения
- 4) хвойные растения

6. Какие органы образуют опорно-двигательную систему?

- 1) носовая полость, трахея, бронхи, лёгкие
- 2) скелет, мышцы
- 3) головной мозг, спинной мозг, нервы
- 4) почки, мочеточники, мочевого пузырь

7. Почему на велосипеде запрещается перевозить груз, который сильно выступает за его габариты?

- 1) габаритный груз тяжело укрепить на багажнике велосипеда
- 2) габаритный груз некрасиво смотрится при перевозке на велосипеде
- 3) габаритный груз создаёт опасность управлению велосипедом
- 4) нет верного ответа

8. Какое полезное ископаемое имеет следующие свойства: тяжелее воды, рассыпчатое, хорошо пропускает воду, желтого или белого цвета?

- 1) Нефть
- 2) песок
- 3) глина
- 4) каменный уголь

9. Как называется наука, изучающая строение человека?

- 1) астрономия
- 2) диетология
- 3) физиология
- 4) анатомия

10. Укажи, из чего складывается бюджет страны:

- 1) из зарплаты и стипендии
- 2) из денег
- 3) из доходов и расходов

11. Объясните необходимость занесения некоторых видов растений и животных в Красную книгу:

Ответ: _____

12. Ответьте на вопрос «Почему нужно беречь воду?»

Ответ: _____

13. Назови столицу Казахстана .

Ответ: _____

14. Вспомни, какие города входят в туристический маршрут по Золотому кольцу России и заполни таблицу:

| Название города | Достопримечательность |
|-----------------|-----------------------|
| | |
| | |
| | |
| | |

15. Предложи способы защиты окружающей среды.

